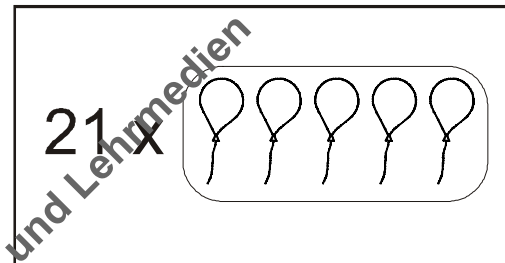
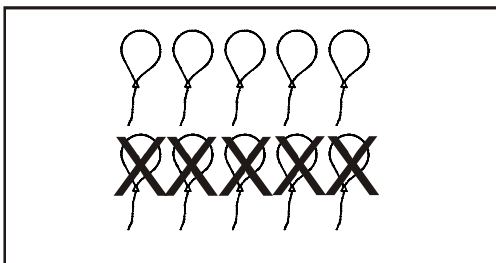
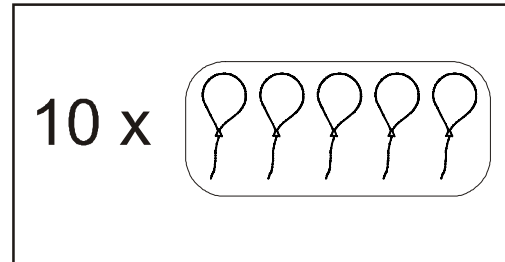
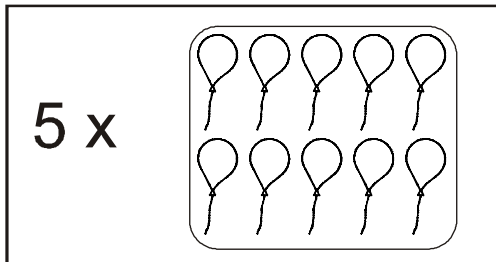


Manchmal hilft es, eine Skizze (einen Lösungsplan) zu einer Aufgabe zu erstellen. Male die passende Skizze sauber aus!

1. Familie Müller kauft für eine Party zum 50. Geburtstag am 21.6. 10 Packungen Luftballons mit je 5 Ballons.



2. Fliesenleger Paul legt neue Fliesen im Bad. Es ist 5 m lang und 2 m breit. Jede Fliese ist 0,5 m lang und 0,5 m breit. Wie viele Fliesen benötigt der Fliesenleger?

